



09-32-13-63
(15.3)



**МОСКОВСКИЙ ГОСУДАРСТВЕННЫЙ УНИВЕРСИТЕТ
имени М.В.ЛОМОНОСОВА**

Вариант 1

Место проведения Москва
город

ПИСЬМЕННАЯ РАБОТА

Олимпиада школьников Международные олимпиады и Глобалистика
наименование олимпиады

ПО _____
профиль олимпиады

Кашкогo Александра Владимировича
фамилия, имя, отчество участника (в родительном падеже)

Дата

«25» февраля 2023 года

Подпись участника

Kashko

Жен. УНАСУР, МЕРКОСУР, ШОС, АНА и иные региональные объединения. Как

Принимая во внимание внешнеэкономическую политику страны, что на текущий момент возросла роль региональных организаций взаимодействия и сотрудничества, а также необходимость привлечения инвестиций в экономику отдельных регионов.

Министр экономики

На основе анализа опыта международных связей союзных стран была принята наднациональная политика в Грузии, в Сирии, Аргентине, Восточной Европе, Китае, Японии, которые прежде были закрыты для миграции, которая постепенно расширяла свои горизонты. Специальное из стран пост-советского пространства, а также более дельнейшей работы с ними, чтобы вводить очень серьезные ограничения по миграции - семейные контакты, традиционные контакты, а также за счет транснациональных государств, а также привлечение инвестиций. Также по делу Самбел по делу Бененцев привел к решению по делу деминой работы с ними, в результате чего полиция управляет безработными.

Один из самых серьезных вопросов Глобализации в России. Проблема Глобализации задана фактически кардинально, а также резко актуализирована. Серьезно ударив по экономике многих стран. Также касается одобрения Конференции на Украине привело к изменению России из ряда международных организаций, а роль международного влияния стал критичной введением ряда санкций со стороны США и стран Европы, все это и даже создание региональных военных союзов АНКА, АЦКЕС - Австралия, Великобритания и США против Китая. Также критично все это свидетельствует о кризисе международных отношений.

Принимая во внимание внешнеэкономическую политику страны, что международная ситуация осложняется, что ведет к процессам локализации и глобализации - роста сотрудничества между государствами в рамках отдельного региона. (См. также приложение № 2)

Крамар А.А.

09-32-13-63 (15.3)

ОЛИМПИАДА ШКОЛЬНИКОВ «ЛОМОНОСОВ-2023»

ОЛИМПИАДА ШКОЛЬНИКОВ ЛОМОНОСОВ 2023



«МЕЖДУНАРОДНЫЕ ОТНОШЕНИЯ И ГЛОБАЛИСТИКА»

ВАРИАНТ 1

И.А. Сахаров

Задание 1.

Изучите приведенный фрагмент из записок иностранного путешественника:

«Согласно данному приказу, посол получил у царя прощальный прием. Как и прежде, дорога была занята стрельцами, тоже и базарная площадь и двор Кремля; по-моему, теперь их было еще больше. Посол был принят как обычно, он благодарил царя за честь, оказанную ему как послу Их Высокомогущества, и за ответ, который ему дали на представленные им бумаги, но так как он не все еще понял, и не все ему было ясно, то просил разрешения выяснить некоторые статьи в беседе с дьяками. Царь передал, что велел боярам просмотреть его бумаги и дать ответ, получит ли он еще беседу с дьяками для подробного обсуждения.»

Одновременно царь, точнее царь вместе с толмачом, передал в собственные руки посла ответную грамоту Их Высокомогуществам и повелел ему, когда он придет в Штаты Голландии и Нидерландов, бить поклон перед ними от его имени, т.е. приветствовать их. Когда подходили к руке царя, посла пожаловали тем, что он мог сидеть на скамеечке; когда это закончилось, царь сам спросил толмача обо мне, и тот сказал, что Великий Господин Царь и Великий Князь и т.д. справляется о моем, Клааса, здоровье. Я сразу отбил поклон или, скорее, приветствовал его, пожелал царю долгой жизни и сказал, что по милости Бога я здоров. С правой стороны царя стоял князь Яков Черкасский, с левой — Илья Мирославский, отец его жены.»

Приведите ответы на следующие вопросы:

1.1. О каком российском государе идет речь? Охарактеризуйте изменения внешнеполитического положения России при этом правителе.

Петр I - Российский Император. Алексей Михайлович - Российский Государь. Император Великого Российского Царства.

- Россия получила законное право на владение Украиной, а также право на владение Религиозными владениями.

- Россия заключила Верный мир с Польшей, предприняв успешные войны между Россией и Польшей.

- Россия подписала Нерчинский договор с Китаем, закрепивший границу России и Китая, и установивший дружественные отношения между Россией и Китаем.

- Россия подписала в войне с Крымскими Ханствами, в результате чего, в Крымские Ханства перешло владение на Левобережье Украины.

- Ростом Российского государства становится великая империя России.

1.2. Назовите государственный орган, в ведении которого находились отношения России с зарубежными странами в описываемый период.

Российский Император. Посольский Приказ.

Задание 2.

Изучите фрагменты из исторических документов:

(А) «В прошедшую с Портою Оттоманскою войну, когда силы и победы оружия Нашего давали Нам полное право оставить в пользу Нашу Крым, в руках наших бывший, Мы сим и другими пространными завоеваниями жертвовали тогда возобновлению доброго согласия и дружбы с Портою Оттоманскою... решился Мы взять под державу Нашу полуостров Крымский, остров Таман и всю Кубанскую сторону».

(Б) «Учитывая общность экономики, территориальную близость и тесные хозяйственные и культурные связи между Крымской областью и Украинской ССР... утвердить совместное представление Президиума Верховного Совета РСФСР и Президиума Верховного Совета УССР о передаче Крымской области из состава Российской Советской Федеративной Социалистической Республики в состав Украинской Советской Социалистической Республики».

(В) «Российская Федерация и Республика Крым... основываясь на свободном и добровольном волеизъявлении народов Крыма на общекрымском референдуме... принимая во внимание предложение Республики Крым и города с особым статусом Севастополя о принятии в Российскую Федерацию Республики Крым, включая город с особым статусом Севастополь, заключили настоящий Договор о нижеследующем».

Выполните следующие задания:

2.1. Опираясь на сведения по истории внешней политики России, определите, о каких исторических событиях идет речь, укажите их год. Ответ запишите в таблице:

Фрагмент	Событие	Год
(А)	Присоединение Крыма Екатериной II к империи России - <i>Визитная война</i>	1782
(Б)	Передача Н.С. Хрущевым Крыма из РСФСР в УССР	1956
(В)	Присоединение Крыма по итогам референдума В.В. Путин	2014

2.2. Укажите, какой договор завершил войну, о которой идет речь во фрагменте (А).

Бахчисарайский мирный договор

Задание 3.

В дипломатическом лексиконе есть понятия, образованные от наименования населенных пунктов, с которыми связаны значимые события в истории международных отношений.

Выполните следующие задания:

3.1. Определите на территории каких современных государств расположены в настоящее время населенные пункты, с наименованиями которых связано появление нижеуказанных дипломатических терминов. В таблице укажите наименования современных государств:

Дипломатический термин	Государство
Алма-Атинское соглашение	<i>Казахстан</i>
Бухарестская декларация	<i>Румыния</i>
Гаванская конвенция	<i>Куба Республика, Куба, Куба</i>
Марракешский саммит	<i>Марокко, Марокко</i>
Сан-Стефанский договор	<i>Турция</i>

3.2. Назовите два дипломатических термина, образованных от наименований населенных пунктов, ныне входящих в состав Российской Федерации.

Московский договор Конференция, Керченский договор

21

Задание 12.

В январе 2023 года английский журнал The Economist опубликовал статью под заголовком «Как отступила глобализация». По мнению автора статьи, «эпоха глобализации не вернется в ближайшее время». Согласны ли Вы с такой точкой зрения? Объясните смысл понятия «глобализация». Охарактеризуйте современные тенденции развития глобализации. Приведите развернутый и аргументированный ответ.

Глобализация - процесс взаимодействия государств всего мира. После Второй мировой войны она охватила все регионы планеты. В XIX веке она была ограничена географически и действовала в более узкой сфере. Только после Второй мировой войны процесс стал глобальным. Благодаря международной торговле, росту взаимодействия государств и передаче ресурсов, инвесторы начали открывать предприятия в других государствах. Однако в последнее время после начала Второй мировой войны тенденции к глобализации ослабли. Многие государства стали младше после Второй мировой войны и стремились укрепить свои позиции. В первую очередь это касается Японии.

Вторая мировая война привнесла кризис в систему международных отношений. Это привело к распаду империй и созданию новых государств. После войны началась Европа начала весть выгоды кредитов на восстановление, а для преодоления кризиса Конференция государств в рамках более активного сотрудничества. Однако в период между «Красной жуткой» начался кризис системы международных отношений - ЕРГА, Европейский союз ЕОЭС, ЕС. В начале 1990-х годов в этот период как начался кризис и начало государства ОВБ. Влияние Европы на глобализацию России также возмущает в ряд экономических международных структур - ВТО, и др. Это привело к началу кризиса отношений с Россией. После кризиса Терра-территориальных Акт (11.09.2001), Кризиса 2008 года, Аральской воды (2010-2011), Кризиса 2008 года, Глобального кризиса 2008 года, Глобализация начала замедляться. Терра-территориальные страны начали весть международные отношения. Не было стран, которые не начали весть международные отношения. Многие государства стали меньше влиять на глобализацию. Кризис международных отношений привел к началу кризиса в рамках, региона. Тем не менее

Задание 10.

В 2023 году отмечается годовщина значимого события в истории международных отношений. Изучите связанную с ним фотографию:

3



Приведите ответы на следующие вопросы:

10.1. О каком событии идет речь? Укажите его даты.

Северная Корейская война - 1943 год

10.2. Назовите два наиболее значимых решения, которые были приняты в ходе данной встречи. Аргументируйте свой ответ.

Встреча - решение о выводе войск союзников (Англии и США) и отрыве западного фронта - это наводит на мысль о борьбе за освобождение Европы от нацизма. Принятие решения о начале высадки в Италии, что наводит на мысль о борьбе против фашизма. Япония - часть восточного фронта.

Задание 11.

Изучите приведенный фрагмент из письма, адресованного Председателю Совета Безопасности ООН:

5

«Россия, Германия и Франция в рамках осуществления тесной координации подтверждают, что разоружение Ирака в соответствии с резолюцией 687 (1991) Совета Безопасности Организации Объединенных Наций и последующими резолюциями по этому вопросу является общей задачей международного сообщества и что оно должно быть как можно скорее доведено до конца... Альтернатива войне все еще имеется. Применение силы могло бы быть самым крайним средством. Россия, Германия и Франция преисполнены решимости обеспечить все необходимые условия для разоружения Ирака мирным путем».

Приведите ответы на следующие вопросы:

11.1. В каком году было направлено данное письмо?

2001

11.2. Какие мирные средства разрешения международных споров предусмотрены Уставом ООН? Охарактеризуйте их.

- 1) Международные суды в Гааге - решение международных споров через суд
- 2) Введение санкций международными организациями для предупреждения конфликтов
- 3) Ведение переговоров - мирные и договорные договоры
- 4) Международная арбитраж
- 5) Принятие резолюций Советом Безопасности ООН по данному вопросу
- 6) Принятие решений Советом Безопасности ООН по данному вопросу

Задание 4.

Перед Вами фрагмент политической карты первой трети XIX века:

6



Приведите ответы на следующие вопросы:

4.1. Основываясь на приведенной карте и сведениях по истории внешней политики, определите, с какими европейскими государствами Россия граничила в 1820-е годы.

Королевство Пруссия, Австрийская империя, Османская империя, Королевство Швеция, Королевство Дания

4.2. Какие территории вошли в состав Российского государства в первой четверти XIX века?

Финляндия, Восточная Великая княжества Финляндия, Герцогство Восточная Финляндия (Ливония), Герцогство Курляндия

Задание 5.

Перед Вами заголовки статей американских газет XIX века:

«Большой парад на Пятой улице», «Большой прием в честь русских офицеров», «Наши гости из ВМФ. Российский флот входит в нашу гавань», «Почести русским морским офицерам», «Русский крест сплетает свои складки со звездами и полосами».

Приведите ответы на следующие вопросы:

5.1. О каком событии идет речь? Укажите его год.

Присоединение к Первой Прованса Аляски США Александр Восток - 1867 год

5.2. Кто являлся главой дипломатического ведомства России в этот период? Назовите два наиболее значимых его достижения на дипломатической службе.

Горчаков, - глава дипломатического ведомства. - добился откровенно выгодных условий для России, как для приобретения Франции в Крымской войне Турция в Крымской войне для России, как для приобретения государства в Крымской войне. С. М. Митрофанов, стр. 1.

6

Задание 6.

Прочитайте фрагмент из исторического документа:

«Я вошел дом и не успел сесть, как присутствовавшие начали пить единогласно за здоровье Русского офицера... Порядок нашей армией был соблюден до того, что никакое безчиние не напоминало, что в Париже находилось более ста тысяч иностранных войск; глубокое безмолвие на улицах прерывалось только окликаками Русских часовых».

Приведите ответы на следующие вопросы:

6.1. О событиях какой военной кампании идет речь? Укажите год события.

Речь идет о Заграничном походе Русской Армии (в рамках войны с Наполеоном) - 1813 год.

6.2. Охарактеризуйте изменение положения России на международной арене по итогам данной военной кампании.

- 1) Россия стала членом Великого германского, входящего в Союзный союз (Россия, Австрия, Пруссия), который был призван предотвратить революцию в Европе.
- 2) Россия стала членом одной из комитетов Виенских Актов в ходе международной конференции.
- 3) Россия получила новые территории - в результате Варшавского договора и других договоров в Европе.
- 4) Создание Венского концерта, Венской системы международных отношений.
- 5) Многие государства были благодарны России за вклад в победу над Наполеоном.

Задание 7.

Изучите политический плакат:

4



Приведите ответы на следующие вопросы:

7.1. С каким событием связано появление данного плаката? Укажите его год. Каким термином данное событие обозначается в дипломатическом лексиконе?

Предложение британского министра Вильяма Питера (Чемберлена) России о мире и временного перемирия. 1941 г.

7.2. Назовите дипломатический термин, образованный от фамилии другого зарубежного государственного деятеля. Поясните значение термина.

Доктрина Трумэн - Доктрина США, запрещающая распространение влияния США и их союзников на территории стран, входящих в Коалицию воюющих.

Задание 8.

Определите, каков был статус России (СССР) в нижеперечисленных международных организациях в различные годы.

1

Впишите в таблицу один из следующих возможных ответов:

- (А) Организация не существовала.
- (Б) Россия (СССР) не являлась членом организации.
- (В) Россия (СССР) являлась членом организации.

Наименование Организации	1943 г.	1963 г.	1983 г.	2003 г.	2023 г.
Евразийский экономический союз	А	А	А	В	В
Международный банк реконструкции и развития	В	Б	Б	В	В
Организация Договора о коллективной безопасности	А	А	А	В	В
Организация стран-экспортеров нефти	А	А	Б	Б	Б
Совет экономической взаимопомощи	А	А	А	В	В

Задание 9.

Перед вами фотография уличного указателя в одном из европейских городов:



6


Приведите ответы на следующие вопросы:

9.1. С каким историческим событием связано появление названия этой улицы?

Название улицы связано со Сталинградом (Битва), в которой великая советская армия победила.

9.2. Охарактеризуйте геополитическое значение данного события.

- После победы над Сталинградом Советский Союз (СССР и Великобритания) выиграл - то решение на Восточном фронте, так как появились основания надеяться, что СССР сможет надеяться на победу в войне против Гитлера и остальных стран оси, сотрудничавших на восточном фронте.
- Германия не могла больше надеяться на помощь СССР, а СССР перешел в контрнаступление.
- Рост авторитета СССР на международной арене.
- Победа над фашистскими силами укрепила позиции Советского Союза среди воюющих держав.
- Это стало началом надежды на победу над Гитлером, что помогло Огону Гитлеру и Гитлеру Пиллеру в войне.





09-32-13-63
(15.3)

Числовик (стр. 3)

Задача №7-1

содержит:

Человек ^[крестьян. митра Британ] Чендерлена

Преподнесение ~~содержимого~~ и возможная ~~какая~~
важна ~~содержимого~~ ~~Акт~~ с ~~Британ~~ в ~~случае~~
Куплю ~~содержимого~~ ~~временного~~ ~~привидения~~ и
Куплю ~~содержимого~~ ~~Российской~~ ~~империи~~ ~~контракт~~
Год: 1926. —  

Данное событие обозначается как ~~Человек~~
Человек в ~~дипломатическом~~ ~~контракте~~.

